

Γραμμικά συστήματα εξισώσεων

Στοιχεία Γραμμικής Άλγεβρας

Υπενθύμιση

Στο Λύκειο εργαστήκαμε στην επίλυση γραμμικών συστημάτων δύο & τριών μεταβλητών (αγνώστων)

- Η γραμμική εξίσωση 2 μεταβλητών, x, y είναι της μορφής:

$$a \cdot x + b \cdot y = c \quad (a, b \text{ σταθερές, όχι και οι 2 μηδέν})$$

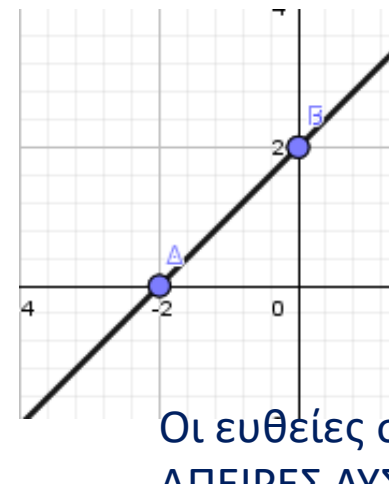
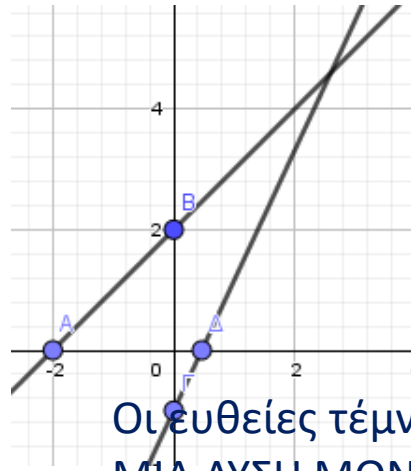
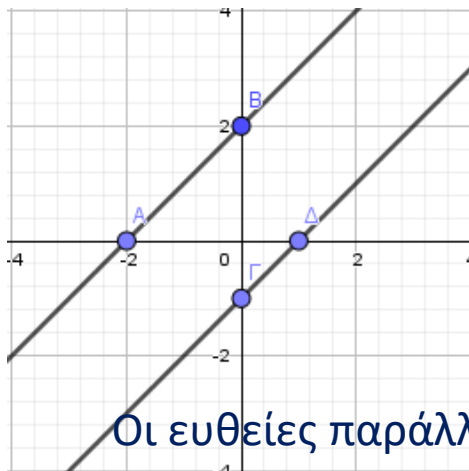
- Είναι η εξίσωση ευθείας στο επίπεδο (2-διάστατος χώρος)

- Άρα για το σύστημα

$$a_1 \cdot x + b_1 \cdot y = c_1$$

$$a_2 \cdot x + b_2 \cdot y = c_2$$

υπάρχουν 3 πιθανές λύσεις



Υπενθύμιση (συνέχεια)

Το σύστημα $\begin{cases} a_1 \cdot x + b_1 \cdot y = c_1 & \text{(I)} \\ a_2 \cdot x + b_2 \cdot y = c_2 & \text{(II)} \end{cases}$

έχει λύσεις ΟΛΑ τα ζευγάρια (x, y) τ.ώ. επαληθεύουν και την (I) και την (II)

- Αν ένα σύστημα έχει έστω 1 λύση λέγεται **Συμβιβαστό σύστημα**
- Αν δεν έχει καθόλου λύσεις, λέγεται **Ασυμβίβαστο σύστημα**

Υπενθύμιση (συνέχεια)

- Όμοια η γραμμική εξίσωση 3 μεταβλητών x, y, z είναι της μορφής:
$$a \cdot x + b \cdot y + c \cdot z = d \quad (a, b, c \text{ σταθερές, όχι και οι 3 μηδέν})$$
- Είναι η εξίσωση επιπέδου στο χώρο (3-διάστατος χώρος)

Οι γραμμικές εξισώσεις είναι 1^{ου} βαθμού

Ερωτήσεις υπενθύμισης:

H $x + x \cdot y = 5$ είναι γραμμική;

H $x^2 - 4 \cdot y = 0$;

Γραμμικά συστήματα $m \times n$

- Γραμμικό σύστημα m εξισώσεων με n αγνώστους είναι :

$$a_{11}x_1 + a_{12}x_2 \dots + a_{1n}x_n = b_1$$

$$a_{21}x_1 + a_{22}x_2 \dots + a_{2n}x_n = b_2$$

.....

$$a_{m1}x_1 + a_{m2}x_2 \dots + a_{mn}x_n = b_m$$

ή αλλιώς: $A \cdot X = b$

- Μία λύση του συστήματος είναι της μορφής $X = \begin{pmatrix} x_1 \\ \vdots \\ x_n \end{pmatrix}$
- Το σύνολο των λύσεων λέγεται 'γενική λύση'
- Αν δεν υπάρχει τέτοιο X , το σύστημα είναι αδύνατο

$$\begin{pmatrix} a_{11} & \dots & a_{1n} \\ \vdots & \ddots & \vdots \\ a_{m1} & \dots & a_{mn} \end{pmatrix} \cdot \begin{pmatrix} x_1 \\ \vdots \\ x_n \end{pmatrix} = \begin{pmatrix} b_1 \\ \vdots \\ b_n \end{pmatrix}$$

Αν τα $b_i = 0$ για κάθε i ,
Τότε το σύστημα
λέγεται 'Ομογενές'

Μήτρα συντελεστών A Μήτρα αγνώστων X Μήτρα σταθερών b

Θεώρημα

εύρεσης πλήθους λύσεων με τον βαθμό

Υπενθύμιση: **Επαυξημένη μήτρα** A_E ονομάζεται η μήτρα των συντελεστών της A με την προσθήκη στο τέλος την στήλη των σταθερών b

Μία και μόνο : **1!**

Ένα σύστημα $A \cdot X = b$, m εξισώσεων & n αγνώστων έχει:

1. Μία και μόνο λύση αν $\text{rank}(A) = \text{rank}(A_E) = n$
2. Άπειρες λύσεις αν $\text{rank}(A) = \text{rank}(A_E) < n$
3. Χωρίς λύση αν $\text{rank}(A) \neq \text{rank}(A_E)$

Άσκηση: Βρείτε αν είναι συμβιβαστό το:
$$\begin{cases} x + 2y - z = 5 \\ 3x - y + 2z = 2 \\ 2x + 11y - 7z = -2 \end{cases}$$

Υπόδειξη: Χρησιμοποιείτε ΣΜΓ για να μετατρέψετε τις μήτρες σε κλιμακωτές

Ασκήσεις

Ελέγξτε με τον βαθμό των μητρών των συστημάτων αν τα επόμενα έχουν λύσεις:

$$\begin{aligned}2x_1 - 3x_2 + 5x_3 - 2x_4 &= 9 \\5x_2 - x_3 + 3x_4 &= 1 \\7x_3 - x_4 &= 3 \\2x_4 &= 8\end{aligned}$$

(α)

$$\begin{aligned}2x_1 + 6x_2 - x_3 + 4x_4 - 2x_5 &= 15 \\x_3 + 2x_4 + 2x_5 &= 5 \\3x_4 - 9x_5 &= 6\end{aligned}$$

(β)

$$\begin{aligned}x - 3y - 2z &= 6 \\2x - 4y - 3z &= 8 \\-3x + 6y + 8z &= -5\end{aligned}$$

(γ)

$$\begin{aligned}x + 2y - 3z &= 1 \\2x + 5y - 8z &= 4 \\3x + 8y - 13z &= 7\end{aligned}$$

(δ)

$$\begin{aligned}x_1 + 3x_2 - 2x_3 + 5x_4 &= 4 \\2x_1 + 8x_2 - x_3 + 9x_4 &= 9 \\3x_1 + 5x_2 - 12x_3 + 17x_4 &= 7\end{aligned}$$

(ε)

Απ. : (α) 1 λύση
(β) άπειρες λύσεις
(γ) 1 λύση
(δ) Άπειρες λύσεις
(ε) Ασυμβίβαστο

Υπενθύμιση: Μέθοδος Gauss

(επίλυσης γραμμικών συστημάτων)

Βήματα μεθόδου:

1. Μετασχηματίζουμε την A_E σε κλιμακωτή μορφή
2. Βρίσκουμε τους αγνώστους αρχίζοντας από τον τελευταίο

Παράδειγμα: Λύστε με την μέθοδο Gauss το:
$$\begin{cases} 2x_1 + x_2 + x_3 = 5 \\ 4x_1 + 10x_2 = -2 \\ -2x_1 + 7x_2 + 2x_3 = 9 \end{cases}$$

$$\begin{pmatrix} 2 & 1 & 1 & 5 \\ 4 & 10 & 0 & -2 \\ -2 & 7 & 2 & 9 \end{pmatrix} \xrightarrow[\begin{matrix} R_2 \rightarrow R_2 - 2R_1 \\ R_3 \rightarrow R_3 + R_1 \end{matrix}]{\longrightarrow} \begin{pmatrix} 2 & 1 & 1 & 5 \\ 0 & 8 & -2 & -12 \\ 0 & 8 & 3 & 14 \end{pmatrix} \xrightarrow{R_3 \rightarrow R_3 - R_2} \begin{pmatrix} 2 & 1 & 1 & 5 \\ 0 & 8 & -2 & -12 \\ 0 & 0 & 5 & 26 \end{pmatrix}$$

από το οποίο έχουμε ότι $x_3 = 26/5$ κ.ο.κ. για τις x_2 και x_1

Τα ομογενή συστήματα

- **Υπενθύμιση:**

ομογενές σύστημα γραμμικών εξισώσεων $m \times n$ λέγεται αυτό που έχει όλους τους σταθερούς όρους μηδέν, δηλ. $A \cdot X = 0$

- Ένα ομογενές σύστημα γραμμικών εξισώσεων $m \times n$ είναι πάντα συμβιβαστό (έχει δηλ. σίγουρα μία λύση, την μηδενική)
- Αν $\text{rank}(A) = \text{rank}(A_E) < n$ (του πλήθους των αγνώστων), τότε υπάρχουν άπειρες λύσεις, άρα και λύσεις $\neq 0$

Πρόταση:

Έστω τετραγωνική μήτρα $A_{n \times n}$, τότε:
$$\text{rank}(A) = n \Leftrightarrow |A| \neq 0$$

Η Πρόταση ισχύει και για μη-ομογενή συστήματα

δηλ. **άν η ορίζουσα της μήτρας $A_{n \times n}$, των συντελεστών των αγνώστων είναι διάφορη του μηδενός, τότε το ομογενές σύστημα έχει μία και μοναδική λύση, την μηδενική**

δηλ. οι εξισώσεις είναι γραμμικά ανεξάρτητες

Πόρισμα για τα ομογενή

Πόρισμα:

Έστω τετραγωνική μήτρα $A_{n \times n}$, τότε:
 $A \cdot X = 0$ έχει μη-μηδενικές λύσεις $\Leftrightarrow |A| = 0$

δηλ. αν $|A| = 0$ τότε το σύστημα είναι αόριστο, ήτοι οι εξισώσεις δεν είναι γραμμικά ανεξάρτητες και κάποια /ες είναι συνδυασμός άλλων

Παράδειγμα:

Να λύσετε το σύστημα:
$$\begin{cases} 2x + 2y = 0 \\ -x - y = 0 \end{cases}$$

Εφόσον $|A| = 0$, συνεπάγεται από το πόρισμα ότι υπάρχουν και λύσεις μη-μηδενικές

Ερώτηση: Ποιες είναι αυτές;

Υπενθύμιση: Κανόνας του Cramer

Έστω τετραγωνική μήτρα $A_{n \times n}$ τ.ώ. $|A| \neq 0$. Τότε η μοναδική λύση υπολογίζεται από τον τύπο:

$$x_i = \frac{|A_i|}{|A|}$$

όπου:

- $i = 1, \dots, n$ &
- $|A_i|$ η ορίζουσα από την αντικατάσταση της i στήλης με την στήλη των σταθερών

Άσκηση: Λύστε με Cramer το

$$\begin{cases} 2x_1 + x_2 + x_3 = 5 \\ 4x_1 - 6x_2 = -2 \\ -2x_1 + 7x_2 + 2x_3 = 9 \end{cases}$$

Βοήθεια: $|A| = -16$, $|A_1| = -16$, $|A_2| = -16$, $|A_3| = -32$
και $x_1 = 1$, $x_2 = 1$, $x_3 = 2$

Άσκηση

Να λύσετε το σύστημα γραμμικών εξισώσεων για όλες τις πιθανές τιμές του k ($k \in \mathbb{R}$):

$$\begin{cases} x + y - z = 1 \\ 2x + 3y + kz = 3 \\ x + ky + 3z = 2 \end{cases}$$

(Υπόδειξη:

Προσέξτε ποια μέθοδο συμφέρει να κάνετε χρήση)

Λύση

Θα χρησιμοποιήσουμε την μέθοδο απαλοιφής του Gauss στην A_E

$$\begin{pmatrix} 1 & 1 & -1 & 1 \\ 2 & 3 & k & 3 \\ 1 & k & 3 & 2 \end{pmatrix} \xrightarrow{\substack{R_2 \rightarrow R_2 - 2R_1 \\ R_3 \rightarrow R_3 - R_1}} \begin{pmatrix} 1 & 1 & -1 & 1 \\ 0 & 1 & k+2 & 1 \\ 0 & k-1 & 4 & 1 \end{pmatrix} \xrightarrow{R_3 \rightarrow R_3 - (k-1)R_2} \begin{pmatrix} 1 & 1 & -1 & 1 \\ 0 & 1 & k+2 & 1 \\ 0 & 0 & -k^2 - k + 6 & 2 - k \end{pmatrix}$$

1. Αν $-k^2 - k + 6 = 0 \Rightarrow k = 2$ ή $k = 3$

- a. **για $k=2$:** $\text{rank}(A) = \text{rank}(A_E) = 2 < 3 (=n)$, άρα υπάρχουν άπειρες λύσεις και αν κάνουμε τις πράξεις: $x=5z$, $y=1-4z$, $z \in \mathbb{R}$
- b. **για $k=3$:** $\text{rank}(A) = 2 < \text{rank}(A_E) = 3$, άρα το σύστημα δεν έχει λύσεις (αδύνατο)

2. Αν $-k^2 - k + 6 \neq 0 \Rightarrow k \neq 2$ και $k \neq 3$

$\text{rank}(A) = \text{rank}(A_E) = 3$, άρα το σύστημα έχει 1! λύση: $z = \frac{2-k}{-k^2 - k + 6}$
κ.ο.κ. για $y = \dots$ & $x = \dots$